

GEOGRAFIA

01

As rochas _____ são formadas por elevadas pressões e temperaturas cuja origem é o dinamismo da litosfera. Em função do grau e da origem da transformação, algumas rochas são mais ou menos resistentes. O gnaisse é um exemplo dessa rocha.

Assinale a alternativa que preenche corretamente a lacuna acima.

- a) ígneas
- b) magmáticas
- c) sedimentares
- d) cristalinas
- e) metamórficas

02

As cadeias orogênicas modernas são áreas de grande complexidade rochosa e estrutural e correspondem aos terrenos mais instáveis do Globo, nos quais prevalece forte atividade tectônica.

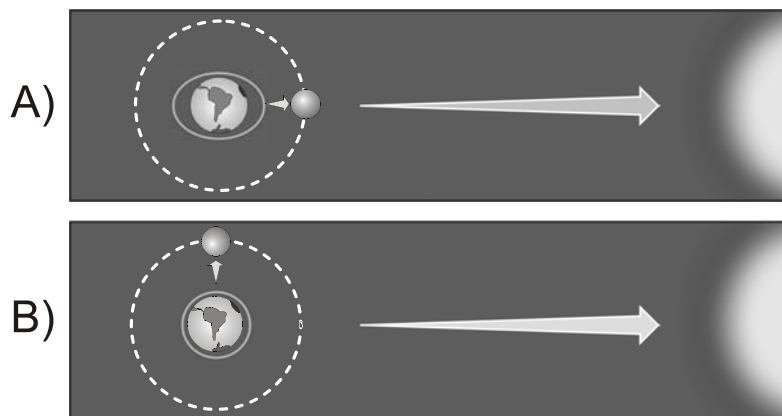
Sobre essas cordilheiras ao redor do mundo, é correto afirmar que

- a) são responsáveis pelas cordilheiras dos Apalaches, na América Latina.
- b) correspondem aos terrenos mais elevados no Brasil, como a Serra da Canastra, na região Sudeste.
- c) estão ligadas a uma grande falha que pode destruir grande parte da região dos lagos, no leste dos Estados Unidos.
- d) encontramos exemplos delas na América Central, desde a Guatemala até a Nicarágua.
- e) não são encontradas na Europa.

03

Quando observamos o mar, percebemos que há um movimento de descida e subida das águas: o movimento da maré. Esse movimento está relacionado à rotação lunar.

Observe as figuras A e B.



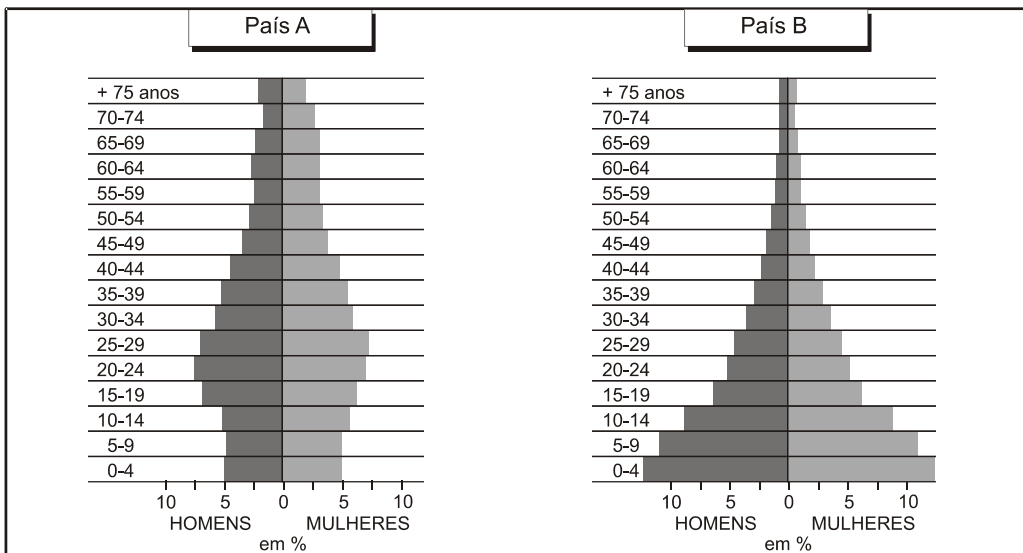
Fonte: MORAES, Paulo R. *Geografia geral e do Brasil*. São Paulo: Harbra, 2001, p. 69 – adaptado.

Os fenômenos de rotação lunar, representados pelas figuras A e B, denominam-se, respectivamente,

- a) *conjunção e quadratura.*
- b) *oposição e conjunção.*
- c) *quadratura e oposição.*
- d) *oposição e quadratura.*
- e) *conjunção e oposição.*

04

As pirâmides etárias são formas de representação da população. Observe as pirâmides etárias abaixo.



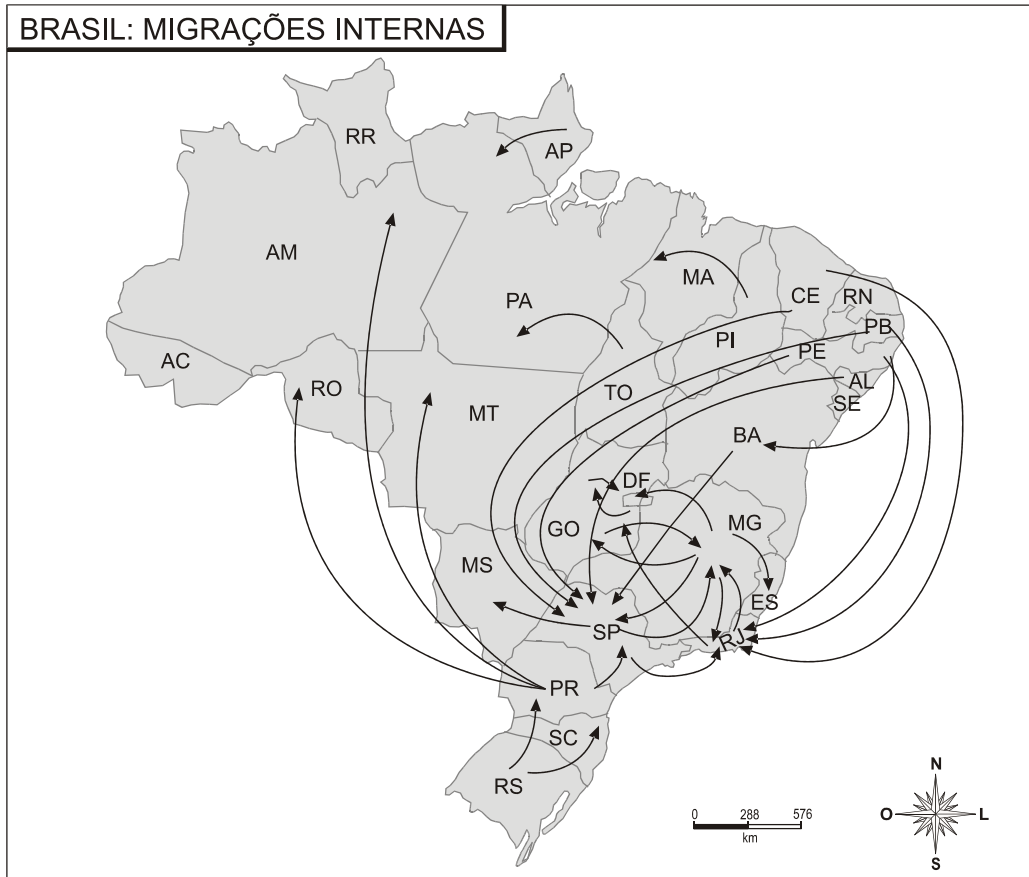
Fonte: MORAES, Paulo R. *Geografia geral e do Brasil*. São Paulo: Harbra, 2001, p. 221 – adaptado.

Com base nessas pirâmides, é correto afirmar que

- a) existem, no país A, mais homens de 5 a 19 anos do que no país B.
- b) existem quantidades aproximadas entre mulheres de 5 a 9 anos e mulheres de 35 a 39 anos no país A.
- c) não existe diferença entre as duas pirâmides a partir de 64 anos.
- d) existem mais mulheres de 39 a 55 anos no país B do que no país A.
- e) não existe diferença entre as duas pirâmides no que diz respeito às faixas compreendidas entre 20 e 34 anos.

05

Observe o mapa sobre as migrações internas no Brasil.



Fonte: MORAES, Paulo R. *Geografia geral e do Brasil*. São Paulo: Harbra, 2001, p. 254 – adaptado.

Com base no mapa, é correto afirmar que

- os principais fluxos migratórios brasileiros dirigem-se à região Centro-Oeste.
- os fluxos migratórios para São Paulo são originários de todas as partes do Brasil, em especial, do norte-nordeste brasileiro.
- o Rio Grande do Sul continua tendo uma forte atração migratória.
- Rio de Janeiro, São Paulo e Minas Gerais possuem fluxos de recepção e emissão de migrantes.
- Acre, Rondônia e Roraima recebem muitos fluxos migratórios.

06

O processo de urbanização tem modificado o Brasil, que passou de um país rural, até 1940, para um país urbano, a partir de 1970.

Sobre a urbanização brasileira, é correto afirmar que

- a importância das cidades não está em relação direta com as funções que desempenham.
- Manaus, apesar de abrigar mais de um milhão de habitantes, não possuía região metropolitana, de acordo com o último censo.
- a hierarquia urbana é definida segundo a extensão territorial das cidades.
- são metrópoles nacionais Vitória, Rio de Janeiro e São Paulo.
- Recife, Salvador e Fortaleza não possuem regiões metropolitanas.

07

O lixo é um importante problema na sociedade urbana. Geramos muitos resíduos e não sabemos o que fazer com eles. Uma das soluções adotadas é a construção de aterros sanitários.

Analise a veracidade (V) ou falsidade (F) das proposições abaixo, sobre os cuidados necessários para a implementação dos aterros.

- () É necessário escolher uma região afastada de cursos d'água, nascentes e poços artesianos, em virtude da possibilidade de contaminação da água pelo churume.
- () Os aterros devem ser construídos longe dos aeroportos, uma vez que os resíduos atraem aves de grande porte, o que pode provocar acidentes.
- () É preciso utilizar equipamentos para que os gases gerados a partir da decomposição dos resíduos tenham reduzidos seus impactos na atmosfera.

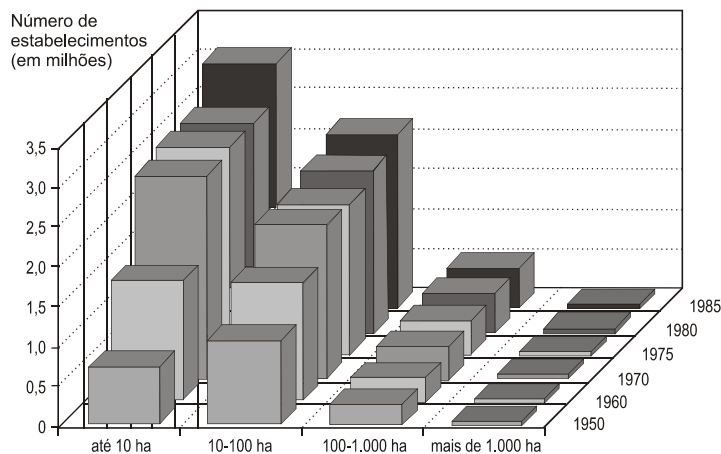
Assinale a alternativa que preenche corretamente os parênteses, de cima para baixo.

- a) V – V – V
- b) V – F – F
- c) F – F – F
- d) V – F – V
- e) F – F – V

08

O Brasil é um país com grande extensão de terras, tendo na agricultura uma importante atividade econômica.

Observe o gráfico sobre a distribuição de terras no Brasil.



Fonte: ROSS, J. L. S. *Geografia do Brasil*. São Paulo: EDUSP, 2003, p. 485.

Com base no gráfico, é possível afirmar que

- a) os estabelecimentos com mais de 1 000 ha tiveram um aumento significativo entre 50 e 70.
- b) diminuíram os estabelecimentos entre 100 a 1 000 ha, de 50 a 85.
- c) existiam muitos estabelecimentos com pequena extensão de terras e poucos com grande extensão de terras, de 50 a 85.
- d) existiam poucos estabelecimentos com pequena extensão de terras e muitos estabelecimentos com grande extensão de terra, de 50 a 85.
- e) predominavam estabelecimentos entre 10 e 100 ha, em 1975.

09

O mundo globalizado necessita de organizações supranacionais que possibilitem o melhor funcionamento da economia global. O Gatt foi um desses instrumentos que surgiu para mediar negociações internacionais e para diminuir as barreiras protecionistas. Na década de 90, ele se transformou em _____, ganhando um status de organismo internacional.

Assinale a alternativa que preenche corretamente a lacuna.

- a) Banco Internacional de Reconstrução e Desenvolvimento (BIRD)
 - b) Fundo Monetário Internacional (FMI)
 - c) Banco Mundial
 - d) Organização das Nações Unidas (ONU)
 - e) Organização Mundial do Comércio (OMC)
-

10

A América Latina é uma região diversificada do ponto de vista das paisagens naturais e dos traços culturais. No entanto, podemos estabelecer características comuns do ponto de vista socioeconômico.

Entre essas características, é correto afirmar que a América Latina

- a) constituiu-se, até o século XX, como um abastecedor de produtos primários, com um fraco extrativismo mineral nos países que a compõem.
- b) trouxe da herança colonial as grandes propriedades de terra, e nenhum dos países que a constituem realizou reforma agrária.
- c) nunca viu desaparecer a fome, embora alguns de seus países tenham vivido a *Revolução Verde*.
- d) possui até hoje uma população predominantemente rural.
- e) não teve êxito com o processo de industrialização calcado em multinacionais, pois os únicos beneficiados com ele foram a Argentina e o Brasil.